

8 класс

305

Инструкция по выполнению работ

Время на выполнение работы – 90 минут.

Максимальное количество баллов – 100.

Вам предлагается выполнить задания школьного этапа Олимпиады. Просим внимательно прочесть формулировку каждого задания, чтобы дать ответ на поставленные вопросы в той форме, которую предполагает каждое задание. Успехов Вам в выполнении работы!

Шифр Ш12.И8.01

Задание № 1. Выберите один правильный ответ. Впишите ответы в таблицу.

1.1. В каком году произошли описанные в повести события?

«И приехал в землю Рязанскую, и увидел ее опустевшую, города разорены, церкви пожжены, люди убиты. И помчался в город Рязань, и увидел город разоренный, государей убитых и множество народа полегшего: одни убиты и посечены, другие пожжены, а иные в реке потоплены. И воскричал Евпатий в горести души своей, распаяясь в сердце своем. И собрал небольшую дружину - тысячу семьсот человек, которых бог сохранил вне города».

А) 1237 г. Б) 1238 г. В) 1239 г. Г) 1240 г.

1.2. Определите по нижеприведенному отрывку памятника древнерусской литературы, о каком историческом событии идет речь?

«На том поле грозные тучи сошлись, а из них непрерывно молнии сверкали и гремели громы великие... Это сверкали доспехи золоченые, а гремели князья русские мечами булатными о шлемы хиновские. А бились с утра до полудня в субботу на Рождество Святой Богородицы».

А) Битва на р. Калке Б) Битва на р. Сити В) Куликовская битва Г) Ледовое побоище.

1.3. Какая настоящая фамилия самозванца, появившегося при польском дворе под именем царевича Дмитрия Ивановича?

А) Хованский Б) Шуйский В) Телятевский Г) Отрепьев

1.4. В каком году в России был созван первый Земский собор?

А) 1547 г. Б) 1549 г. В) 1551 г. Г) 1589 г.

1.5. При каком великом князе киевском был совершен последний русский поход на Константинополь?

А) при Святославе Игоревиче В) при Ярославе Владимировиче

Б) при Владимире Святославиче Г) при Святославе Ярославиче

Ответ: 2 2 2 2 2

1.1.	1.2.	1.3.	1.4.	1.5.
А	В	Г	Б	В В

105

Критерии оценивания: за каждый верный ответ - 2 балла, всего – 10 баллов.

Задание № 2. Какое из перечисленных понятий (имён, дат, событий) является лишним в данном ряду? Лишнее слово или словосочетание зачеркните. Укажите, по какому принципу образован каждый ряд, то есть кратко поясните, что объединяет события (понятия, имена, даты).

А) ~~мечник~~, мытник, выход, тать, головник, вира

Ответ: мечник - профессия, остальное - вира данн.

Б) 1497г., 1550г., 1581г., 1597г., 1612 г., 1649 г.

Ответ: 1550г. - ~~нет~~ крупное число, остальные - нет.

В) гривна, куна, золотник, векша, резана, ногата

Ответ: остальные - все есть.

Г) Афанасий Никитин, Семен Дежнев, Владимир Атласов, Симон Ушаков, Василий Поярков, Ерофей Хабаров

Ответ: остальные - исследователи, путешественники и первооткрыватели, а он - нет.

Критерии оценивания: за каждый верный ответ - 4 балла, всего - 16 баллов.

65 Задание № 3. Выберите три правильных ответа на каждый вопрос. Впишите ответы в таблицу.

3.1. Укажите названия рыцарских орденов, возникших во времена крестовых походов.

- 1) Орден Святого Михаила
- 2) Мальтийский орден
- 3) Орден тамплиеров
- 4) Орден Британской империи
- 5) Орден госпитальеров
- 6) Орден Святого Духа

3.2. Кто из нижеперечисленных европейских правителей был в 1189 году участником крестового похода «трех кесарей»?

- 1) Ричард I Львиное Сердце
- 2) Генрих II Плантагенет
- 3) Филипп II Август
- 4) Фридрих I Барбаросса
- 5) Эдуард Чёрный Принц
- 6) Людовик IX Святой

3.3. Какие из перечисленных итальянских городов в период средневековья были республиками?

- 1) Неаполь
- 2) Флоренция
- 3) Венеция
- 4) Рим
- 5) Генуя
- 6) Милан

Ответ:

3

0

3

3.1	3.2	3.3
2, 3, 5, 6	6	2, 3, 5, 1.

Критерии оценивания: за каждый верный ответ - 1 балл, всего - 9 баллов.

25 Задание № 4. Выберите один правильный ответ. Впишите ответы в таблицу.

4.1. В каком памятнике древнерусской литературы впервые упоминаются народ «югра»?

- 1) «Слово о полку Игореве»
- 2) «Повесть временных лет»
- 3) «Хождение за три моря»

4.2. В период какого русского царя был основан город Сургут?

- 1) Иван IV Васильевич
- 2) Федор Иоаннович
- 3) Борис Годунов

4.3. На месте какого югорского княжества был основан Сургутский острог?

- 1) Пелымское княжество
- 2) Казымское княжество
- 3) Бардаково княжество

Ответ:

0

1

1

4.1.	4.2.	4.3.
1	2	3

Критерии оценивания: за каждый верный ответ - 1 балл, всего - 3 балла.

Задание №5. Определите хронологический порядок событий. Занесите буквенные обозначения событий в хронологическом порядке в приведенную таблицу.

- 5.1. А) учреждение опричнины
- Б) начало введения заповедных лет
- В) бегство А. М. Курбского в Литву
- Г) Московское восстание
- Д) начало царствования Фёдора Ивановича
- Е) отмена опричнины

- 5.2. А) Хождение «за три моря» Афанасия Никитина Б) кругосветное плавание Ф. Магеллана
 В) исследование Е. Хабаровым реки Амур Г) путешествие Марко Поло в Индию
 Д) открытие Х. Колумбом Америки Е) экспедиция Бартоломеу Диаша
- 5.3. А) принятие «Соборного Уложения» Б) воцарение Романовых
 В) Медный бунт Г) Соляной бунт
 Д) царствование Ивана и Петра Е) начало реформ патриарха Никона

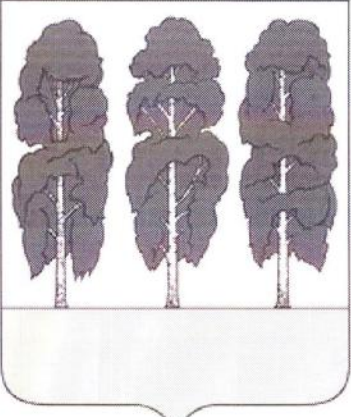





Ответ:

	1	2	3	4	5	6
5.1	Б 0	А 0	В 0	Г 0	Е 0	Д 1
5.2	Б 0	Д 0	Е 1	А 0	Б 1	В 1
5.3	А 0	Е 0	Г 0	В 0	Б 1	Д 1

65

Критерии оценивания: за каждый верный ответ - 1 балл, всего - 18 баллов.

Задание № 6. Внимательно рассмотрите изображения и выполните задания.

А		Б	
В		Г	
Д		Е	

6.1. Запишите названия населенных пунктов, гербы которых представлены на изображениях.

Ответ.

А	Б	В	Г	Д	Е
Салехард Брезово	Кедротыганск	Лянхтар	Архангельск	Салехард	Сургут

6.2. Выпишите букву, обозначающую герб населенного пункта, название которого в переводе означает «рыбное место»

Ответ. Е

6.3. Выпишите букву, обозначающую герб населенного пункта, который возник на месте Самаровского Яма – поселка ямщиков.

Ответ. А

6.4. Выпишите букву, обозначающую герб населенного пункта, который был основан в Югре позже остальных

Ответ. Б

Критерии оценивания: за каждый верный ответ - 1 балл, всего - 9 баллов.

Задание № 7. Если вы согласны с утверждением, напишите «да», если не согласны – «нет».
Внесите свои ответы в таблицу.

7.1. До крещения Руси в Киеве стояла христианская церковь Св. Ильи.

7.2. В битве на реке Калке русские войска возглавляли князья: Мстислав Старый, Мстислав Удатный, Мстислав Святославович и Даниил Романович.

7.3. Александр Невский перенес древнерусскую столицу из Владимира в Москву.

7.4. В 1575 – 1576 гг. великим князем Всея Руси был Симеон Бекбулатович.

7.5. В годы Смуты Второе ополчение против польских захватчиков было создано в Новгороде Великом.

Ответ:

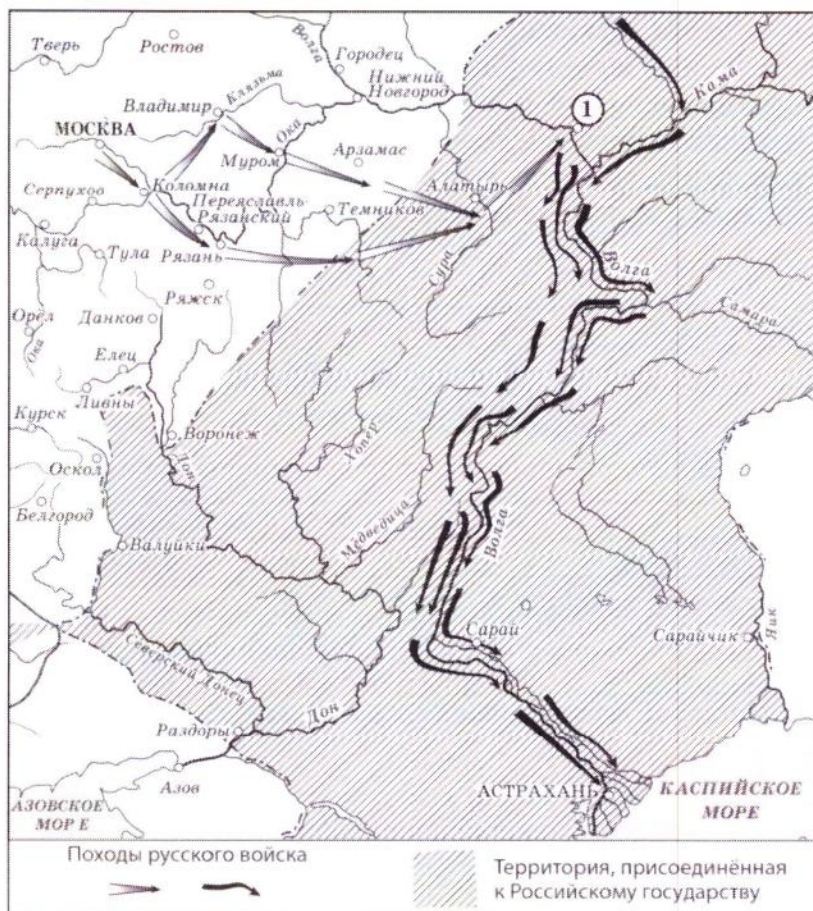
7.1.	7.2.	7.3.	7.4.	7.5.
да +	нет -	нет +	да +	да -

Критерии оценивания: за каждый верный ответ - 1 балл, всего - 5 баллов.

Задание № 8. Рассмотрите карту и выполните предложенные задания

Ш 12.18.01

об



- 8.1. В походе русского войска, обозначенного в легенде карты, участвовал русский царь по имени Владимир (напишите имя и прозвище царя).
- 8.2. Территории, обозначенные на карте штриховкой, были присоединены в 1111-20 (напишите десятилетие и век присоединения).
- 8.3. Под цифрой «1», обозначенной на схеме, спрятан город Я (напишите название города).
- 8.4. Строительство осадной крепости для взятия города, спрятанного на схеме под цифрой «1», руководил не знаю (напишите имя и фамилию).
- 8.5. На территории, обозначенной на схеме штриховкой, обозначено название столицы бывшего «осколка Золотой орды», напишите год ее окончательного присоединения к Русскому государству.

Ответ:

8.1.	Владимир какой-то	0
8.2.	1111-20	0
8.3.	Я	0
8.4.	не	0
8.5.	знаю	0

Критерии оценивания: за каждый верный ответ - 2 балла, всего - 10 баллов.

Задание № 9. Определите пропущенные в тексте названия, понятия, имена, даты, обозначенные порядковыми номерами. При необходимости при порядковых номерах даются пояснения о характере требуемой вставки. Необходимые вставки впишите под соответствующими номерами в помещённую ниже таблицу.

Для освобождения Москвы от интервентов с осени 1611 года в городе **1 (название города)** стало собираться новое народное ополчение. Во главе его встали **2 и 3 (имена и фамилии руководителей ополчения)**. Длительное время находилось оно в городе **4 (название города)**, готовясь к решительным действиям. Лишь в августе **5** года ополчение приблизилось к столице. В это время к городу подошел отряд противника во главе с **6 (фамилия руководителя отряда противников)**. Во время боев к ополчению присоединились казаки из первого ополчения, во главе которого стоял **7 (фамилия руководителя казаков)**. После освобождения Москвы в **8** году состоялся **9 (название органа)**. На нем новым царем был избран **10 (имя и фамилия царя)**. Но военные действия на этом не закончились.

Ответ:

1.	Я сижу и смотрю в чужое небо из чужого окна и не
2.	вижу ни одной знакомой звезды. Я ходил по всем дорогам
3.	и туда, и сюда. Вернулся и не смог разглядеть
4.	следы.
5.	
6.	Теплое место на улице где отпечатков наших ног,
7.	звездная пыль на сапогах, мягкое кресло, клетчатый плед,
8.	не накалывающий ввремя курток. Солнечный день, в осенней-
9.	ных шагах. Трещина крови на рукаве. Мой пераг-
10.	ловый номер на рукаве. Пожелай мне удачи в лето.

Критерии оценивания: за каждый верный ответ - 2 балла, всего - 20 баллов.

пожелай мне удачи...

235

8 класс

Инструкция по выполнению работ

Время на выполнение работы – 90 минут.

Максимальное количество баллов – 100.

Вам предлагается выполнить задания школьного этапа Олимпиады. Просим внимательно прочесть формулировку каждого задания, чтобы дать ответ на поставленные вопросы в той форме, которую предполагает каждое задание. Успехов Вам в выполнении работы!

Шифр Ш12.48.02.

25 **Задание № 1. Выберите один правильный ответ. Впишите ответы в таблицу.**

1.1. В каком году произошли описанные в повести события?

«И приехал в землю Рязанскую, и увидел ее опустевшую, города разорены, церкви пожжены, люди убиты. И помчался в город Рязань, и увидел город разоренный, государей убитых и множество народа полегшего: одни убиты и посечены, другие пожжены, а иные в реке потоплены. И воскричал Евпатий в горести души своей, распаяся в сердце своем. И собрал небольшую дружину - тысячу семьсот человек, которых бог сохранил вне города».

А) 1237 г. Б) 1238 г. В) 1239 г. Г) 1240 г.

1.2. Определите по нижеприведенному отрывку памятника древнерусской литературы, о каком историческом событии идет речь?

«На том поле грозные тучи сошлись, а из них беспрерывно молнии сверкали и гремели громы великие... Это сверкали доспехи золоченые, а гремели князя русские мечами булатными о шлемы хиновские. А бились с утра до полудня в субботу на Рождество Святой Богородицы».

А) Битва на р. Калке Б) Битва на р. Сити В) Куликовская битва Г) Ледовое побоище.

1.3. Какая настоящая фамилия самозванца, появившегося при польском дворе под именем царевича Дмитрия Ивановича?

А) Хованский Б) Шуйский В) Телятевский Г) Отрепьев

1.4. В каком году в России был созван первый Земский собор?

А) 1547 г. Б) 1549 г. В) 1551 г. Г) 1589 г.

1.5. При каком великом князе киевском был совершен последний русский поход на Константинополь?

А) при Святославе Игоревиче В) при Ярославе Владимировиче
Б) при Владимире Святославиче Г) при Святославе Ярославиче

Ответ:

1.1.	1.2.	1.3.	1.4.	1.5.
В 0	А 0	В 2	Б 0	Г 0

Критерии оценивания: за каждый верный ответ - 2 балла, всего – 10 баллов.

00 **Задание № 2. Какое из перечисленных понятий (имён, дат, событий) является лишним в данном ряду? Лишнее слово или словосочетание зачеркните. Укажите, по какому принципу образован каждый ряд, то есть кратко поясните, что объединяет события (понятия, имена, даты).**

А) мечник, мытник, выход, тать, головник, ~~вира~~

Ответ: ЗВАННЯ 0

Б) 1497г., 1550г., 1581г., ~~1597г.~~, 1612 г., 1649 г.

Ответ: _____

В) гривна, куна, золотник, векша, резана, ногата

Ответ: древние названия валюты

Г) Афанасий Никитин, Семен Дежнев, Владимир Атласов, Симон Ушаков, Василий Поярков, Ерофей Хабаров

Ответ: известные авторы и путешественники

Критерии оценивания: за каждый верный ответ - 4 балла, всего - 16 баллов.

Задание № 3. Выберите три правильных ответа на каждый вопрос. Впишите ответы в таблицу.

3.1. Укажите названия рыцарских орденов, возникших во времена крестовых походов.

- 1) Орден Святого Михаила
- 2) Мальтийский орден
- 3) Орден тамплиеров
- 4) Орден Британской империи
- 5) Орден госпитальеров
- 6) Орден Святого Духа

3.2. Кто из нижеперечисленных европейских правителей был в 1189 году участником крестового похода «трех кесарей»?

- 1) Ричард I Львиное Сердце
- 2) Генрих II Плантагенет
- 3) Филипп II Август
- 4) Фридрих I Барбаросса
- 5) Эдуард Чёрный Принц
- 6) Людовик IX Святой

3.3. Какие из перечисленных итальянских городов в период средневековья были республиками?

- 1) Неаполь
- 2) Флоренция
- 3) Венеция
- 4) Рим
- 5) Генуя
- 6) Милан

Ответ:

3.1	3	3.2	2	3.3	1
	2, 3, 5		1, 6, 3		5, 1

Критерии оценивания: за каждый верный ответ - 1 балл, всего - 9 баллов.

Задание № 4. Выберите один правильный ответ. Впишите ответы в таблицу.

4.1. В каком памятнике древнерусской литературы впервые упоминаются народ «югра»?

- 1) «Слово о полку Игореве»
- 2) «Повесть временных лет»
- 3) «Хождение за три моря»

4.2. В период какого русского царя был основан город Сургут?

- 1) Иван IV Васильевич
- 2) Федор Иоаннович
- 3) Борис Годунов

4.3. На месте какого югорского княжества был основан Сургутский острог?

- 1) Пелымское княжество
- 2) Казымское княжество
- 3) Бардаково княжество

Ответ:

4.1.	4.2.	4.3.
	2	2, 3

Критерии оценивания: за каждый верный ответ - 1 балл, всего - 3 балла.

Задание № 5. Определите хронологический порядок событий. Занесите буквенные обозначения событий в хронологическом порядке в приведенную таблицу.

- 5.1. А) учреждение опричнины
- Б) начало введения заповедных лет
- В) бегство А. М. Курбского в Литву
- Г) Московское восстание
- Д) начало царствования Фёдора Ивановича
- Е) отмена опричнины

- 5.2. А) Хождение «за три моря» Афанасия Никитина
 В) исследование Е. Хабаровым реки Амур
 Д) открытие Х. Колумбом Америки

- Б) кругосветное плавание Ф. Магеллана
 Г) путешествие Марко Поло в Индию
 Е) экспедиция Бартоломеу Диаша

- 5.3. А) принятие «Соборного Уложения»
 В) Медный бунт
 Д) царствование Ивана и Петра

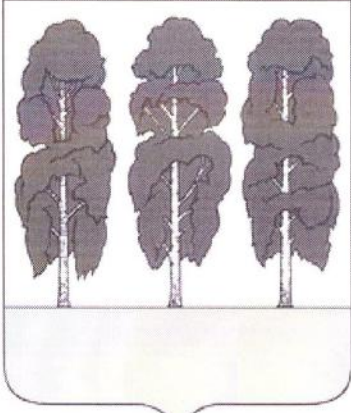





- Б) воцарение Романовых
 Г) Соляной бунт
 Е) начало реформ патриарха Никона

Ответ:

	1	2	3	4	5	6
5.1	б -	а -	в -	г -	е -	д +
5.2	е -	з -	г -	д -	а -	в +
5.3	а -	а -	з -	в -	д -	г +

Критерии оценивания: за каждый верный ответ - 1 балл, всего - 18 баллов.

Задание № 6. Внимательно рассмотрите изображения и выполните задания.

А		Б	
В		Г	
Д		Е	

26 6.1. Запишите названия населенных пунктов, гербы которых представлены на изображениях.

Ответ:

А <input type="radio"/>	Б <input type="radio"/>	В <input type="radio"/>	Г <input type="radio"/>	Д <input type="radio"/>	Е <input type="radio"/>
Самара Ульяновск Казань	Макарь	Ульяновск	Татарстан Ульяновск Самара	Ульяновск-Татарстан	Сургут

6.2. Выпишите букву, обозначающую герб населенного пункта, название которого в переводе означает «рыбное место».

Ответ: е

6.3. Выпишите букву, обозначающую герб населенного пункта, который возник на месте Самаровского Яма – поселка ямщиков.

Ответ: я а

6.4. Выпишите букву, обозначающую герб населенного пункта, который был основан в Югре позже остальных.

Ответ: а

Критерии оценивания: за каждый верный ответ - 1 балл, всего - 9 баллов.

25 Задание № 7. Если вы согласны с утверждением, напишите «да», если не согласны – «нет». Внесите свои ответы в таблицу.

- 7.1. До крещения Руси в Киеве стояла христианская церковь Св. Ильи.
- 7.2. В битве на реке Калке русские войска возглавляли князья: Мстислав Старый, Мстислав Удатный, Мстислав Святославович и Даниил Романович.
- 7.3. Александр Невский перенес древнерусскую столицу из Владимира в Москву.
- 7.4. В 1575 – 1576 гг. великим князем Всея Руси был Симеон Бекбулатович.
- 7.5. В годы Смуты Второе ополчение против польских захватчиков было создано в Новгороде Великом.

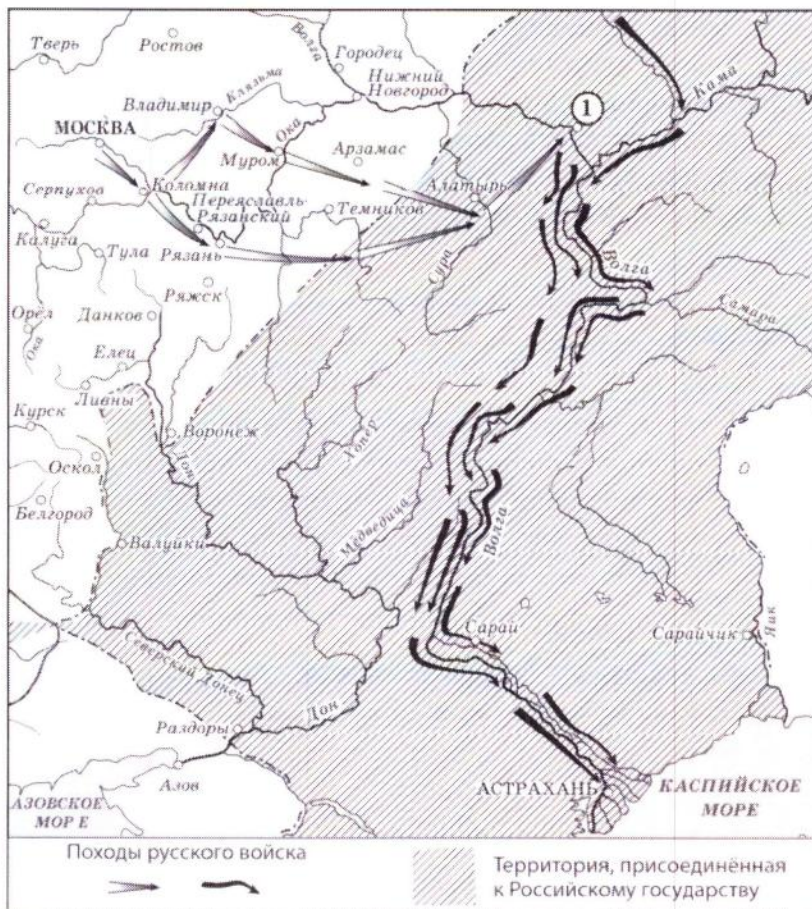
Ответ:

7.1. <input type="radio"/>	7.2. <input type="radio"/>	7.3. <input type="radio"/>	7.4. <input type="radio"/>	7.5. <input type="radio"/>
нет	да да	да	нет	да

Критерии оценивания: за каждый верный ответ - 1 балл, всего - 5 баллов.

Задание № 8. Рассмотрите карту и выполните предложенные задания

06



Куликов / Ярослав Тудрый

- 8.1. В походе русского войска, обозначенного в легенде карты, участвовал русский царь по имени Ярослав Тудрый (напишите имя и прозвище царя).
- 8.2. Территории, обозначенные на карте штриховкой, были присоединены в XIII в. (напишите десятилетие и век присоединения).
- 8.3. Под цифрой «1», обозначенной на схеме, спрятан город Вензьяга (напишите название города).
- 8.4. Строительство осадной крепости для взятия города, спрятанного на схеме под цифрой «1», руководил _____ (напишите имя и фамилию).
- 8.5. На территории, обозначенной на схеме штриховкой, обозначено название столицы бывшего «осколка Золотой орды», напишите год ее окончательного присоединения к Русскому государству.

Ответ:

8.1.	<u>Куликов</u>	-	0
8.2.	<u>13 век</u>	<u>1218-1380</u>	0
8.3.		-	0
8.4.		-	0
8.5.	<u>Астраханское Канство</u>	<u>1383</u>	0

Критерии оценивания: за каждый верный ответ - 2 балла, всего - 10 баллов.

66

Задание № 9. Определите пропущенные в тексте названия, понятия, имена, даты, обозначенные порядковыми номерами. При необходимости при порядковых номерах даются пояснения о характере требуемой вставки. Необходимые вставки впишите под соответствующими номерами в помещённую ниже таблицу.

Для освобождения Москвы от интервентов с осени 1611 года в городе 1 (название города) стало собираться новое народное ополчение. Во главе его встали 2 и 3 (имена и фамилии руководителей ополчения). Длительное время находилось оно в городе 4 (название города), готовясь к решительным действиям. Лишь в августе 5 года ополчение приблизилось к столице. В это время к городу подошел отряд противника во главе с 6 (фамилия руководителя отряда противников). Во время боев к ополчению присоединились казаки из первого ополчения, во главе которого стоял 7 (фамилия руководителя казаков). После освобождения Москвы в 8 году состоялся 9 (название органа). На нем новым царем был избран 10 (имя и фамилия царя). Но военные действия на этом не закончились.

Ответ:

1.	Являрог	0
2.	m	
3.	m	
4.		
5.	1612	2
6.		
7.	Глинский	0
8.	1615	0
9.	Земский собор	2
10.	Иван Федор Федор Романов Михаил Федорович Романов.	2

Критерии оценивания: за каждый верный ответ - 2 балла, всего - 20 баллов.